

## Activitats Cicle mitjà EE

Nom: \_\_\_\_\_

Data: \_\_\_\_\_

### ACTIVITAT 1

### CI ACTIVITAT NUMERACIÓ I CÀLCUL

Utilitza un d'aquests signes  $<$ ,  $>$  o  $=$  per a cada parella de números.

EXEMPLE

20 > 8

14 36

21 21

19 17

**51 53**

Encercla el número més petit de cada parella

EXEMPLE

15 17

47 28

13 31

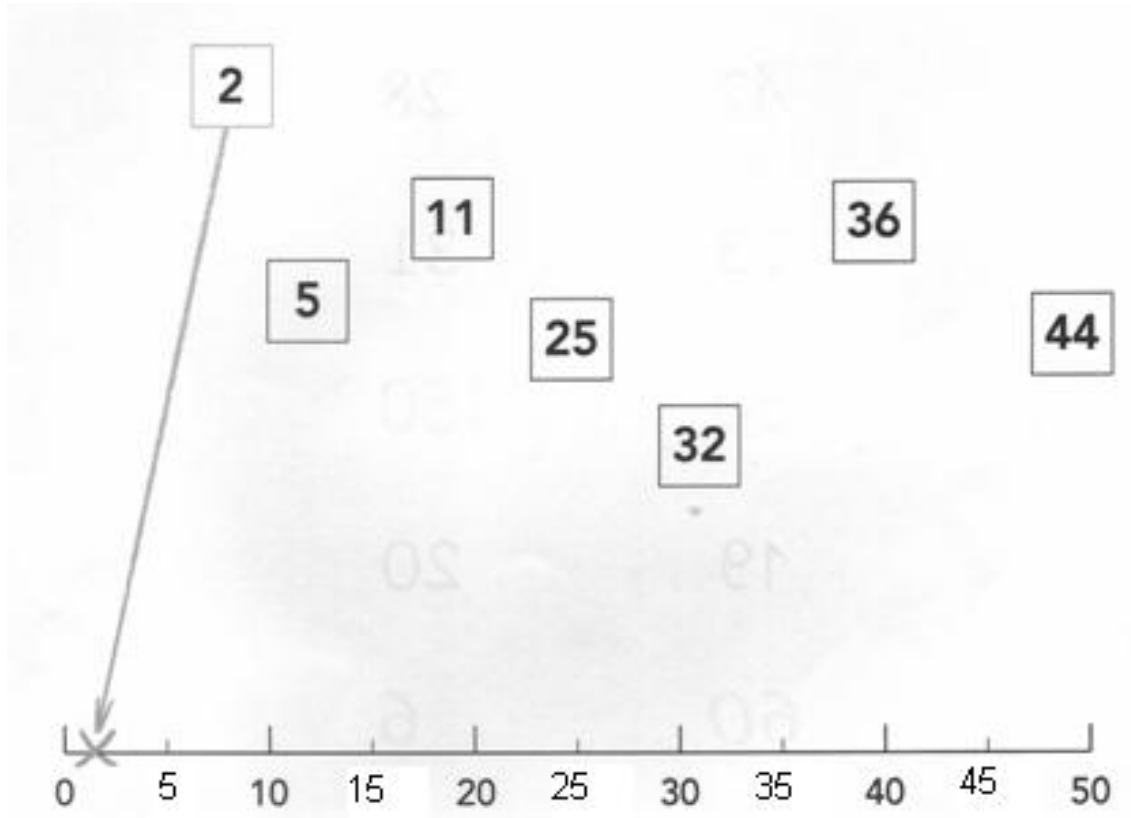
**66 99**

## Activitats Cicle mitjà EE

### ACTIVITAT 2

### CI ACTIVITAT NUMERACIÓ I CÀLCUL

Fixa't en l'exemple del número 2 i senyala amb una fletxa i una X el lloc que correspon a cada número.



### ACTIVITAT 3

### CI ACTIVITAT NUMERACIÓ I CÀLCUL

Completa aquestes sumes i restes:

$4 + \underline{\quad} = 7$

$6 + 3 = \underline{\quad}$

$2 + 6 = \underline{\quad}$

$\underline{\quad} + 2 = 5$

$4 + 4 = \underline{\quad}$

$\underline{\quad} + 1 = 9$

$8 - 3 = \underline{\quad}$

$9 - 0 = \underline{\quad}$

$6 - \underline{\quad} = 3$

$\underline{\quad} - 4 = 1$

$7 - \underline{\quad} = 4$


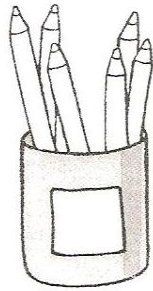
$2 - 2 = \underline{\quad}$

**Activitats Cicle mitjà EE**

**ACTIVITAT 4**

CI ACTIVITAT NUMERACIÓ I CÀLCUL

**a.** Escriu a cada quadre la quantitat corresponent.




6

0

8

**b.** Encercla la quantitat aproximada que creus que hi ha.



5

0
































20

**Activitats Cicle mitjà EE**




**ACTIVITAT 5**

CI ACTIVITAT NUMERACIÓ I CÀLCUL

a. Mira aquest full de calendari.

<b>OCTUBRE</b>						
						
						
						
						
						

b. Fes la gràfica estadística del temps d'octubre.

18			
17			
16			
15			
14			
13			
12			
11			
10			
9			
8			
7			
6			
5			
4			
3			
2			
1			
			

c. Quin temps és el que ha fet més dies? .....

- a) A la taula hi ha un pot amb 12 retoladors. Hem pintat i a l'hora de recollir només n'hi havia 5. Quants retoladors falten?

Aquí pots escriure o dibuixar per resoldre el problema.

Resultat:  retoladors.

- b) En Carles té 5 joguines. Els reis li porten 3 joguines més. Quantes joguines té ara?

Aquí pots escriure o dibuixar per resoldre el problema.

Resultat:  joguines.



## Activitats Cicle mitjà EE

### ACTIVITAT 8

### CI ACTIVITAT NUMERACIÓ I CÀLCUL

Mira aquests dibuixos i escriu en cadascun el número que hi falta.

Només en falta un a cada dibuix.

