


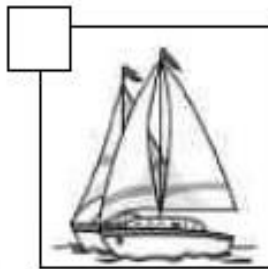

Nom \_\_\_\_\_ Data \_\_\_\_\_

**Recorda**

Els paisatges poden ser de muntanya o de costa.

- En els paisatges de muntanya hi ha boscos, pastures i rius; i els pobles són xicotets.
- En els paisatges de costa hi ha mar, platges i penya-segats.

1. Marca amb una X el que es pot veure en un paisatge de muntanya.  
Després, completa el text.



En els paisatges de muntanya hi ha

i  estrets.

Les  són estretes i els

són xicotets.

2. Observa el paisatge de costa i marca amb una X els elements fets per les persones.

