










Matemàtiques

M

RELOTGES

1. Escriu a sota de cada imatge l'hora que indica en rellotge digital.

 <p>4:00 matí 16:00 tarda</p>	 <p>10:15 matí 22:15 nit</p>	 <p>11:45 matí 23:45 nit</p>
 <p>12:30 matí 00:30 nit</p>	 <p>_____</p>	 <p>_____</p>
 <p>_____</p>	 <p>_____</p>	 <p>_____</p>

2. Relaciona les següents hores:

- | | | |
|-------------|---|------------------------|
| 2.00 | • | • tres quarts de vuit |
| 4.15 | • | • les dues en punt |
| 7.45 | • | • un quart de cinc |
| 3.30 | • | • dos quarts de quatre |